

The background features a warm color palette of oranges, yellows, and pinks. It is decorated with stylized autumn leaves in various shades and sizes, some with white vein patterns. There are also soft, out-of-focus circular bokeh lights scattered across the scene, creating a gentle, atmospheric effect.

# Таблица умножения числа 2 и на 2

Цель:

Образовательная: формировать знания обучающихся таблице умножения на 2, учиться применять ее на практике.

Коррекционно- развивающая: Корректировать мыслительную деятельность через решение заданий и упражнений. Развивать память и внимание через решение примеров в быстром темпе и устно; мелкую моторику через письменные работы в тетради; зрительное восприятие через работу с проектором.

Воспитательная: Сформировать мотивационную основу учебной деятельности, положительное отношение к уроку, понимание необходимости учения.

Оборудование: компьютер, проектор, интерактивная доска, мультимедийная презентация, магнитная доска, многофункциональный комплекс "Дерево знаний".






Прозвенел звонок весёлый,  
Мы начать урок готовы.  
Будем слушать, рассуждать  
И друг другу помогать.



Что скользит по светлой глади  
ученической тетради  
белым лебедем прекрасным,  
ставшим от позора красным  
за бездельника, плутишку  
непослушного мальчишку?  
То, за что его ругают  
и конфет в обед лишают.  
С легким росчерком пера  
появилась цифра....



Задание: Написать цифру 2 красиво, аккуратно.



Ребята, какое это число? однозначное или двузначное?  
**Задание:** Составить двузначное число, используя цифру 2.  
Написать число 22 красиво и аккуратно.



Сколько десятков и единиц в числе 22?

Назовите соседей числа 22.

# Устный счёт. Весёлые задачи.

## Задача 1.

Вот листок и грибок.  
Ещё листок и грибок.  
Сколько всего листков?  
Сколько всего грибов

## Задача 2.



На крыльце сидит щенок,  
Греет свой пушистый бок.  
Прибежал еще один  
И уселся рядом с ним.  
Кто ответит из ребят,  
Сколько стало всех щенят?

## Задача 3.

Утка морковку в корзине несла,  
Этой покупкой довольна была.  
Если морковку ещё ей купить,  
Сколько их будет -  
Ты сможешь сложить?

# Решение задачи на умножение.

3 девочки рвали вишни. Каждая из них положила в ведро по 2 вишни.  
Сколько вишен оказалось в ведре?





Решение:

$$2+2+2=6$$



Как решить задачу по другому?

$$2*3=6$$



Ответ: 6 вишен оказалось в ведре.

ТАБЛИЦА  
УМНОЖЕНИЯ



$2 \times 5 = 10$


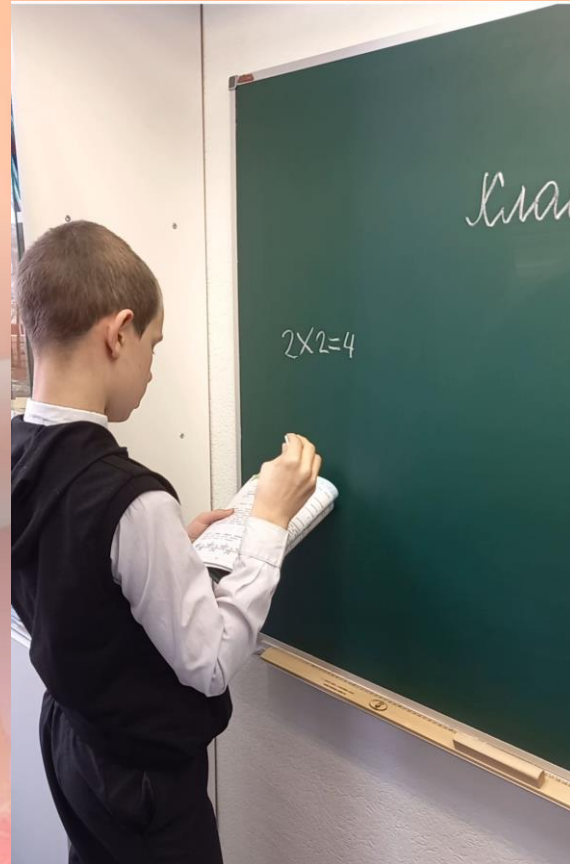
$\times 2$

Наше  
ВСЁ!



# Работа с учебником.

с.52 № 5



Закрепление полученных знаний.  
Многофункциональный комплекс "Дерево знаний"  
Тренажер "Таблица умножения".



**Нарисуй смайлик, который  
соответствует твоему настроению  
на конец урока**



Я все  
понял(а)



Я не все понял(а)



Я ничего не  
понял(а)

Спасибо за внимание!

